


## EL CRUCERO

Hay un poco de lío con los datos, así que la estrategia es: Dibujar la situación. Intenta dibujar los camarotes, los comedores...



### ME VOY DE CRUCERO

el próximo 25 de junio me voy a ir de crucero en un barco precioso que se llama el "Sea Princess".

Tiene cuatro clases de camarotes, de diferentes precios: Las suites, que son muy bonitas y tienen tres camas pero son bastante caras, los camarotes con balcón (dos camas), los exteriores, con un ojo de buey y dos camas y los interiores, sin ojo de buey y dos camas.

El transatlántico tiene cuatro pisos, que en los barcos se llaman "cubiertas". En la cubierta principal, además de las tiendas y los comedores, hay cuarenta suites y 30 exteriores. En la cubierta "Promenade", que está encima, hay ciento veinte camarotes con balcón.


Arriba del todo está la cubierta "Excelsior", con cincuenta suites y veinte exteriores. La cubierta "Nieve" es la más baja, y tiene cien camarotes exteriores y cincuenta interiores. El barco va a estar completamente lleno. No queda ni una plaza libre.

El barco tiene tres comedores:

- Rodeo, que ponen comida mejicana, que es pequeñito y tiene treinta mesas de cuatro personas cada una.
- Fiesta, el más grande, con sesenta mesas de ocho personas.
- Joven, que sólo ponen hamburguesas, con cincuenta mesas de cuatro.

Estos que ves aquí son los precios por persona del crucero:


Tipo	Fechas⇒	Fechas ▶					
		2/4	23/4	14/5	4/6	25/6	16/7
Cabina Interior		699	<del>672</del>	699	699	825	825
Cabina Exterior		759	725	759	759	942	942
Cabina Con balcón		909	868	<del>909</del>	1044	1113	
Suite		1311	1284	1311	1311	1539	1539



The table is part of a larger graphic that includes a map of the cruise route (showing the Caribbean and Central America) and a logo for 'Todo Incluir' (All Inclusive) with a green circle saying 'INCLUYE VUELOS' (Includes Flights).



## PREGUNTAS.



¿Cuántos camarotes exteriores hay?

¿Cuántos camarotes en total tiene el barco?

¿En qué cubierta hay más camarotes?

¿Cuántos pasajeros viajarán en suite?

¿Cuántos pasajeros viajarán en el barco?

¿Cuánta gente cabe en cada uno de los comedores?

¿Pueden comer todos de una vez, o tendrán que hacer dos turnos?

¿En cuál preferirías tú comer?

¿Cuántos camareros crees que tiene que tener el comedor "Fiesta"?

¿Cuánto dinero me va a costar el crucero? (Pensando en que vamos a viajar mi mujer y yo solos)


Si en vez de julio me hubiera marchado en mayo, ¿Cuánto dinero me podría ahorrar?



## SOLUCIONES

¿Cuántos camarotes exteriores hay?

30, 20 y 100. En total 150.



¿Cuántos camarotes en total tiene el barco?

$90 + 120 + 150 + 50 = 410$

¿En qué cubierta hay más camarotes?

En la cubierta "nieve"

¿Cuántos pasajeros viajarán en suite?

90 suites de tres camas = 270

¿Cuántos pasajeros viajarán en el barco?

$270 + 240 + 300 + 100 = 910$

¿Cuánta gente cabe en cada uno de los comedores?

- Rodeo, 120.

- Fiesta, 480.

- Joven, 200.

¿Pueden comer todos de una vez, o tendrán que hacer dos turnos?

Todos a la vez son 800, así que habría que hacer dos turnos.

¿En cuál preferirías tú comer?

Yo en el "Rodeo".

¿Cuántos camareros crees que tiene que tener el comedor "Fiesta"?

Hay 60 mesas, yo creo que un camarero puede atender a dos o tres mesas, así que 20 o 30 camareros.

¿Cuánto dinero me va a costar el crucero? (Pensando en que vamos a viajar mi mujer y yo solos)

El 25 de junio puedo elegir entre cuatro precios: interior 825, exterior 942, balcón 1113, suite 1539 euros.

Yo creo que ni la más barata ni la más cara, así que o 942 o 1113 cada uno, que son o 1884 o 2226 euros.

Si en vez de julio me hubiera marchado en mayo, ¿Cuánto dinero me podría ahorrar?

En mayo el precio es 759, porque de 909 no hay. Me costaría  $759 \times 2 = 1518$ .

Me ahorro más de 300 euros o más de 800, según.

